

**Вопрос 11. Как называется вид речной долины представленный на слайде**



**А. УЩЕЛЬЕ**

**Б. ТЕСНИНА**


**В. КАНЬОН**

**Г. КОРЫТООБРАЗНАЯ**


Вопрос 12. На каком из представленных фото изображен Гудзонов залив



**А.**



**Б.**

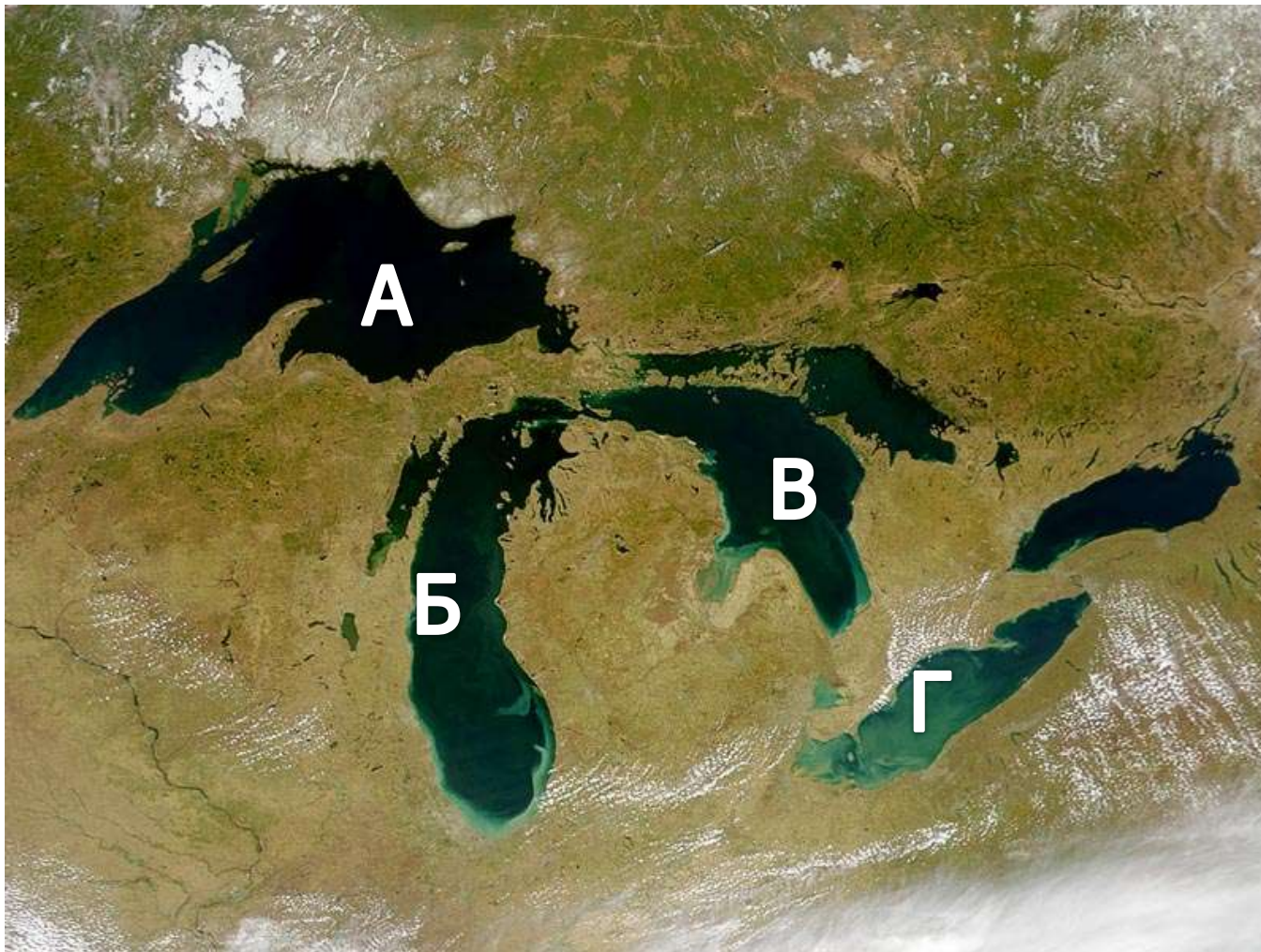


**В.**



**Г.**

Вопрос 13. **Какой буквой на снимке обозначено озеро Мичиган**



Вопрос 14. **Какой тип электростанций представлен на фото:**



**А. ТЕПЛОВЫЕ**

**Б. АТОМНЫЕ**

**В. ГЕОТЕРМАЛЬНЫЕ**

**Г. ГИДРАВЛИЧЕСКИЕ**

**Вопрос 15. Центр какой мировой религии представлен на фото?**



**А. ХРИСТИАНСТВО**

**Б. БУДДИЗМ**

**В. ИСЛАМ**

**Г. ДАОСИЗМ**

**На вопросы с 16 по 25 необходимо  
дать короткий ответ**

**Вопрос 16. Какая сила приводит к формированию представленных на фото форм рельефа**



Вопрос 17. **Назовите представленный на фото остров**





Вопрос 18. **Фрагмент какого моря изображен на фото**





**Вопрос 19. С какой страной имеет сухопутную границу страна, чей флаг представлен на слайде**



## Вопрос 20. Определите страну



Вопрос 21. **Какое из государств не является островным**



Вопрос 22. **Какое государство Африки отмечено знаком.**

